

K级(高中层次) 试卷类型：K-12

请不要直接在试题上做任何标记，否则取消考试资格

将正确答案的序号填在答卷上。

1、下列各句，哪一句写得最为连贯，通顺。

- A、 确定合理的目标成本和对产品的设计和功能进行必要的分析是加强成本事前控制的关键。
- B、 加强成本事前控制的关键是确定合理的目标成本，是对产品的设计和功能进行分析。
- C、 确定合理的目标成本，分析产品的设计和功能是加强成本事前控制的关键。
- D、 确定合理的目标成本和分析产品设计和功能是加强成本事前控制的关键。

2、据报道，日本研制出一种纸制气球代替目前普遍使用的橡胶气球，由于橡胶难以溶解，而这种气球却能溶解于水，因而这种气球更好的理由是：

- A. 能升入更高的天空
- B. 有利于环境保护
- C. 更吸引儿童
- D. 具有更广的用途

3、大气层中的臭氧能保护地球上的生物，这是因为臭氧层可以：

- A. 释放出大量氧气
- B. 滤除大量的紫外线
- C. 屏蔽太阳的辐射
- D. 吸收大量的二氧化碳

4、引发气候变暖，臭氧层破坏，酸雨等全球性环境问题的主要的污染依次分别是：

- A、 CO₂ 氟里昂 SO₂
- B、 SO₂ 氟里昂 CO₂
- C、 CO₂ SO₂ 氟里昂
- D、 SO₂ CO₂ 氟里昂

5、“采菊东篱下，悠然见南山”是谁的诗句：

- A 李白
- B 杜甫
- C 陆游
- D 陶渊明

6、月球绕地球一周的时间是：

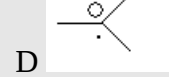
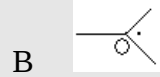
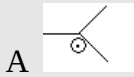
- A 一小时
- B 一日
- C 一月
- D 一年

7、“桂林山水甲天下”。桂林的风景之所以那么优美的主要原因是：

- A、 桂林属于岩溶地貌
- B、 桂林属于高山地形
- C、 桂林的年降雨量特别大
- D、 桂林的植物种类丰富

8、根据左边的样板，为右边方框选择一个正确的答案：





9、 两年频频发生的“疯牛病”事件，最先是哪个国家引起的？

- A 美国
- B 英国
- C 德国
- D 日本

10、 盗伐林木者要严肃查处，如果姑息肇事者，少数人得不到惩处，就会使更多的人_____，_____，_____，最终使国家蒙受损失。

- A 以身试法，肆无忌惮，群起效尤
- B 肆无忌惮，以身试法，群起效尤
- C 肆无忌惮，群起效尤，以身试法
- D 群起效尤，以身试法，肆无忌惮

11、 飞机起落时，为使鼓膜内外气压保持平衡，防止鼓膜胀痛，应当

- A、 张开嘴
- B、 闭紧嘴
- C、 捂双耳
- D、 屏住呼吸

12、 悉尼奥运会上，我国获得的金牌总数排在第几位？

- A、 第一
- B、 第二
- C、 第三
- D、 第四

13、 一次世界大战的爆发时间是：

- A、 1917年
- B、 1937年
- C、 1945年
- D、 1938年

14、 一次考试有 30 道判断题，每作对一道题得 4 分，不做或做错一题倒扣 2 分，某学生得 96 分，问他作对了多少道题？

- A. 24
- B. 26
- C. 28
- D. 25

15、 Now class begins. Stop_____, please.

- A、 to talk
- B、 talking
- C、 talk
- D、 for a talk

16、 Do you know what_____?

- A 、 her name is
- B、 is her name
- C 、 name is her
- D、 name is she

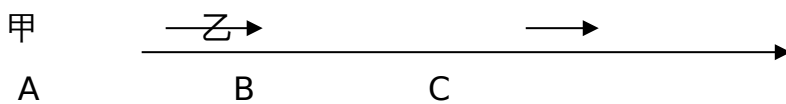
17、 Do you often_____story books in the evening?

- A、 see
- B、 watch
- C、 read
- D、 look

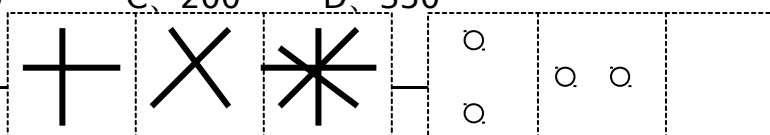
18、 现任香港特别行政区行政长官是_____，澳门特别行政区行政长官是_____。

- A、 董建华，梁锦松
- B、 董建华，陈方安生
- C、 董建华，何厚铨
- D、 梁锦松，董建华

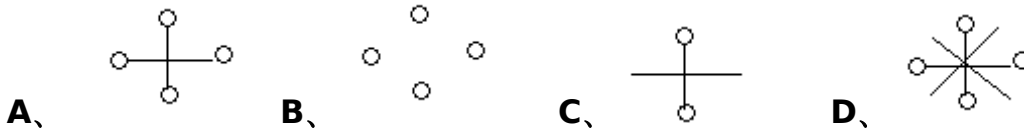
19、 甲、乙两人分别从 A、 B 两地同时向 C 方向距是（如图所示） A、 B 相距 150 米，甲的速度是 2 米/秒，乙的速度是 1.5 米/秒，问甲_____秒后可追上乙。



- A、 300
- B、 100
- C、 200
- D、 350



20、按例子填图案 例：



21、在化学试验中,浓硫酸溅到手上应立即:_____

- A. 用水冲,再用布擦干,再立即去医院
- B. 先用布擦干,再用水冲洗
- C. 没什么关系
- D. 用氢氧化钠中和

22、8,10,14,22, (),70

- A、.38
- B、. 36
- C、 34
- D、 40

23、 主是封建专制社会的最高统治者,而目前英,西等资本主义国家仍保留君主,其主要原因是:

- A. 资产阶级与封建阶级妥协的产物
- B. 君主存在对国家有进步
- C. 民众对君主存在的价值
- D. 君主已平民化

24、 若手表不是在宿舍里丢失的那一定是或在校园里、或教室里、或在大街上丢失的。失主离宿舍时看过手表。如在校园里或教室里丢失,就会有失物招领告示,现没有告示,可见

- A、 表丢在宿舍
- B、 手表丢在大街上
- C、 手表丢在教室里
- D、 手表丢在校园里

25、 在?处选择合适的图形

